


教材6-A-(1) グラフの変わり方

① 『気温のあがり方が、いちばん大きかったのは、何時から何時の間でしょう』の解決のために

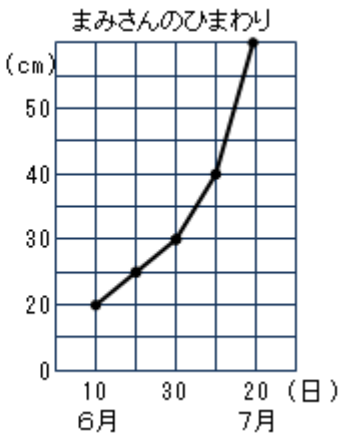
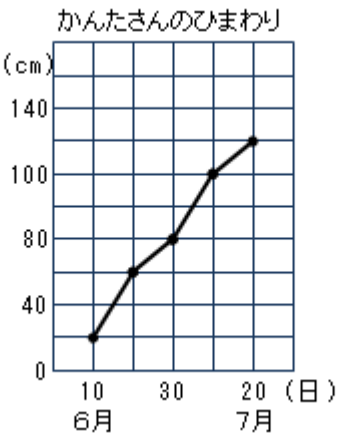
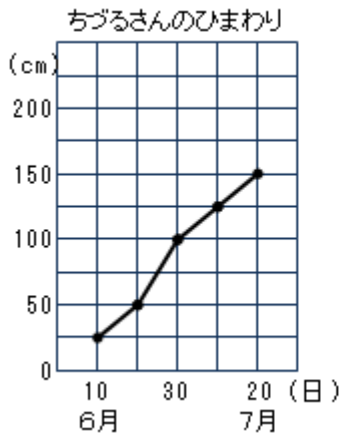
(1) ふえていることを表しているグラフを、ア～オの中からすべて選びましょう。



(2) イのグラフとウのグラフでは、どちらが変わり方の大きいことを表していますか。

たしかめよう

① 下の折れ線グラフは、育てているひまわりの草たけの変わり方を表したものです。6月10日から7月20日の間に、草たけがいちばんのびたのは、だれのひまわりですか。



答

年 組 番 名前
 ア イ ウ

②右のア～ウの中から、たろうさんの話に合う折れ線グラフを選びましょう。

たろう



駅まで行くのに、初めは走ったのですが、とちゅうからはつかれたので歩きました。

