


**教材6-A-(1)の解答**

**グラフの変わり方**

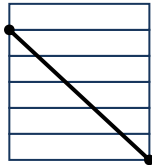
① 『気温のあがり方が、いちばん大きかったのは、何時から何時の間でしょう』の解決のために

(1) ふえていることを表しているグラフを、ア～オの中からすべて選びましょう。

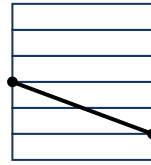
ア




イ



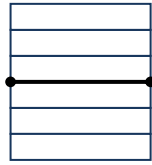
ウ



エ



オ



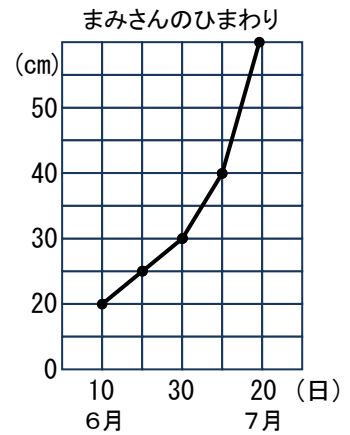
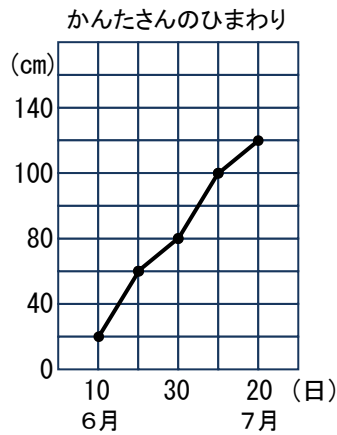
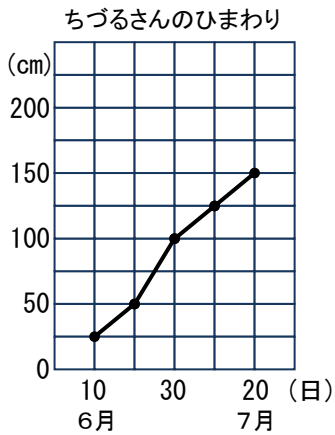
**ア エ**

(2) イのグラフとウのグラフでは、どちらが変わり方の大きいことを表していますか。

**イ**

**たしかめよう**

① 下の折れ線グラフは、育てているひまわりの草たけの変わり方を表したものです。6月10日から7月20日の間に、草たけがいちばんのびたのは、だれのひまわりですか。

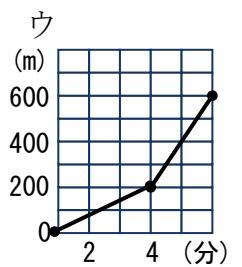
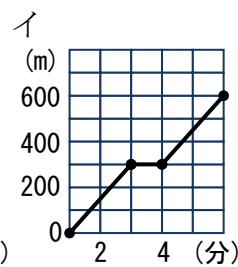
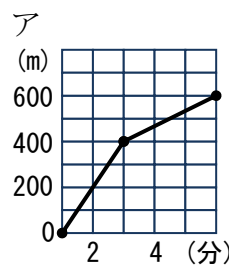


答 **ちづるさん**

② 右のア～ウの中から、たろうさんの話に合う折れ線グラフを選びましょう。

たろう

駅まで行くのに、初めは走ったのですが、とちゅうからはつかれたので歩きました。



答 **ア**