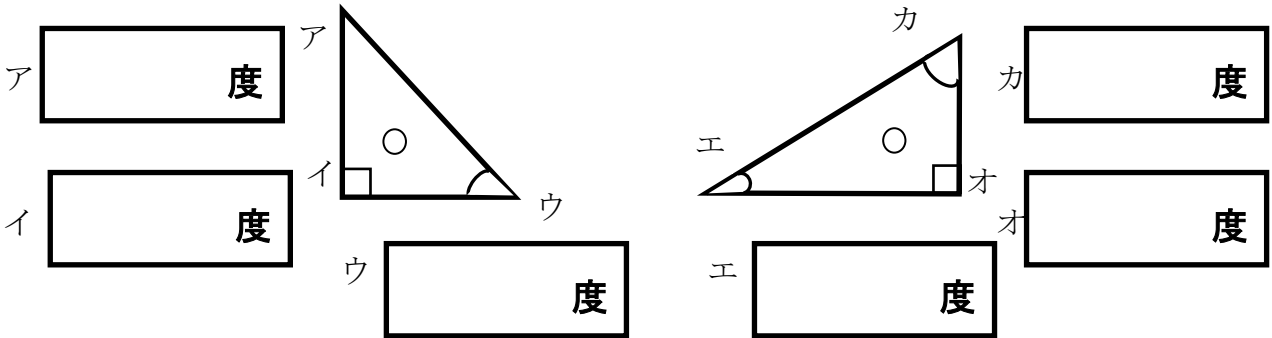


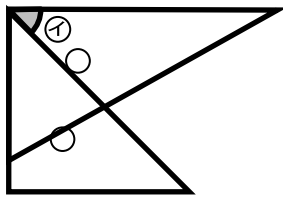
教材3-E-(1) 角の大きさ

⑤ 『【図2】のような一組の三角定規を組み合わせて、角を作りました。①の角は何度でしょう。』の解決のために

(1) 次の三角定規の角は、それぞれ何度でしょう。



(2) 分度器を使わずに、三角定規の角度をもとにして①の角の大きさを求めるためには、上の図のアからカのうちの、どの角の大きさが分かればよいでしょう。

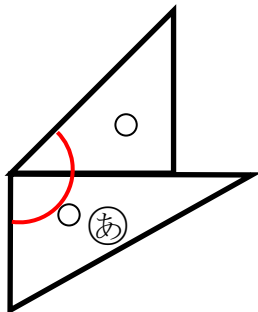


答

たしかめよう

(1) 一組の三角定規を組み合わせたときにできる②、③の角は何度ですか。角度を求める式も書きましょう。

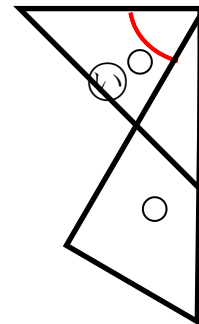
①



式

答

②



式

答