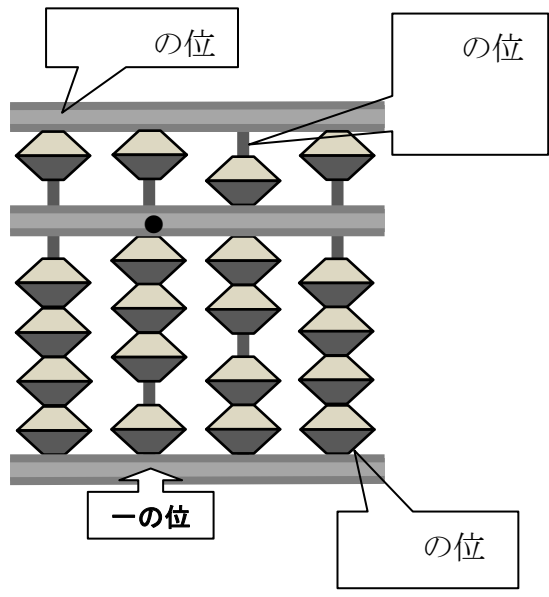


教材 2-D-(3) そろばん

④ 『(5) そろばんを使って、 $3.7 + 1.4$ の計算をします。』の解決のために

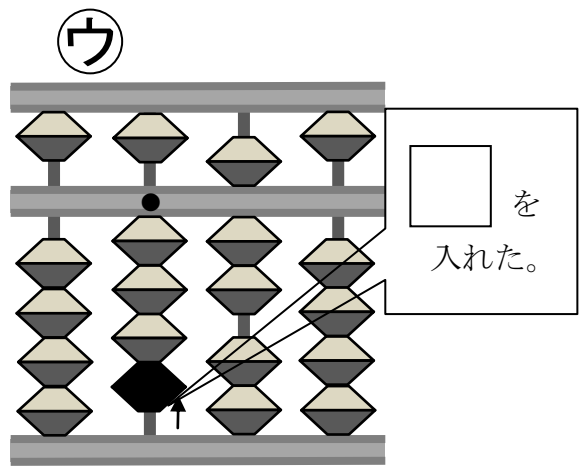
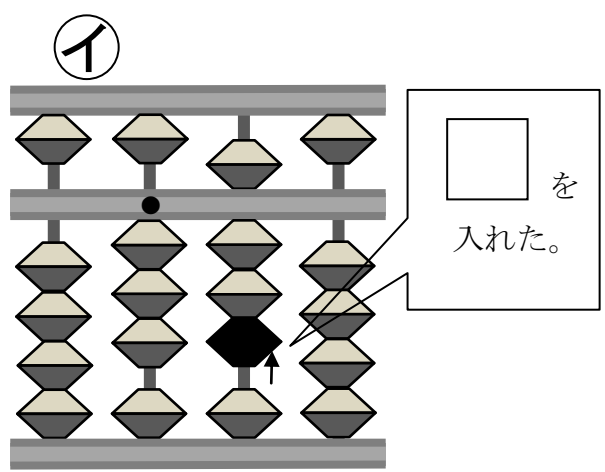
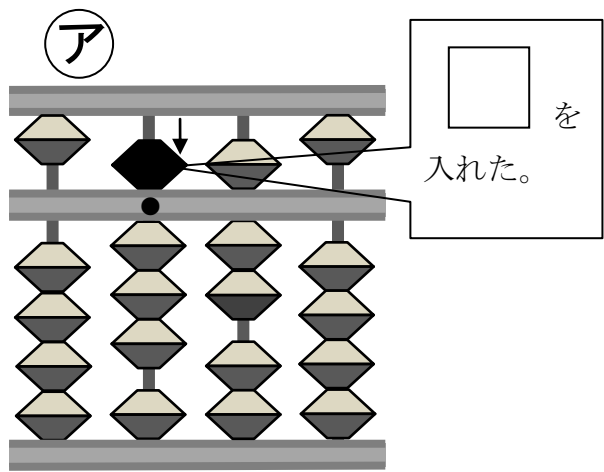


吹き出しが示しているのは何の位ですか？
吹き出しの中に書きましょう。

3.7 という数は

1 が	□	つ
0.5 が	□	つ
0.1 が	□	つ

② 『1.4の1だけをたします。』に対して行った、ア～ウの手順を確かめましょう。
それぞれの手順で入れた数を□に書きましょう。



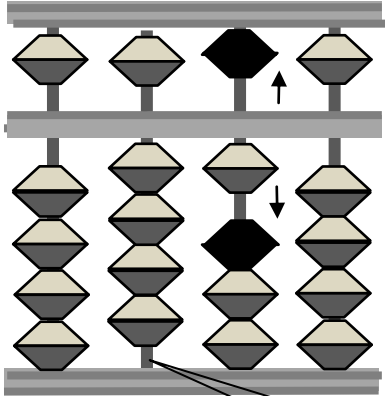
問題文
『1.4の1だけをたします。』の条件にあっているのは、ア～ウのどれですか。

答 □

たしかめよう

① 1. 4ののこり0. 4をたす計算の手順を考えましょう。

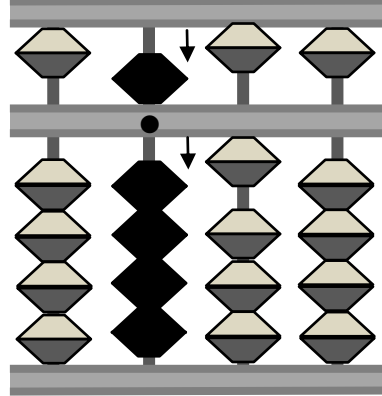
0. 4をたすには



0. 6をはらって
1を入れる。

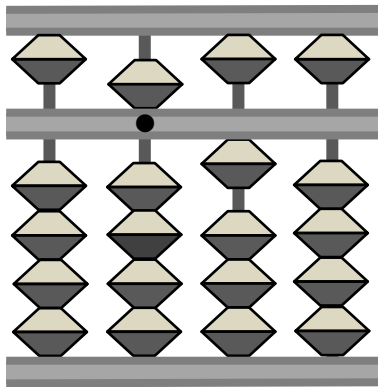
でも1が入
らない！

そこで 1をたすには



をはらって

を入れる。



答えは になります。