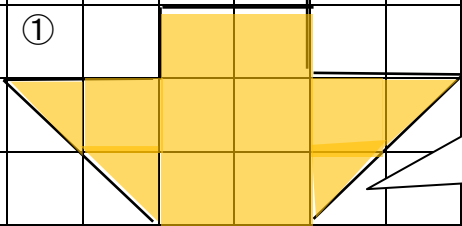
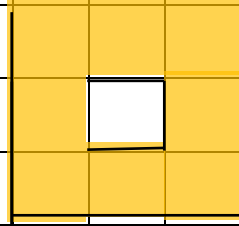


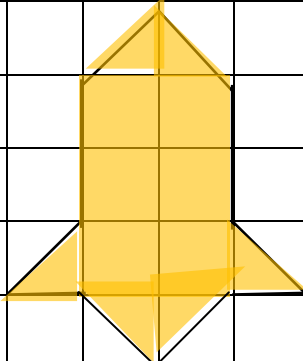
教材 3-B-(3) の解答 図形の面積

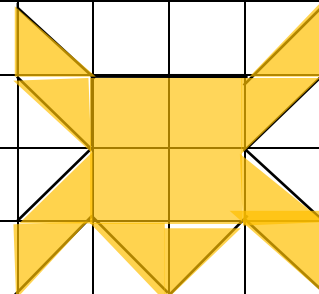
② 『次の方眼^{ほうがん}のなかで、色のついた部分の面積が 9 cm^2 になるものはどれでしょう。
次の①～③の中から2つ選び、番号で答えましょう。』の解決のために

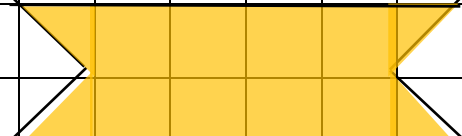
(1) 1 cm  の面積は □ cm^2  が何個分か考えましょう。


①  の面積は cm^2

②  の面積は cm^2

③  の面積は cm^2

④  の面積は cm^2

⑤  の面積は cm^2

 の部分
はどう考えれば
いいかな。
移動すると
 1 cm^2 がつくれ
そうだね。

1 cm
 1 cm

答が 9 cm^2 になる図形は と

たしかめよう

① 色のついた部分の面積が、 9 cm^2 になるような図を他にもかきましょう。

