

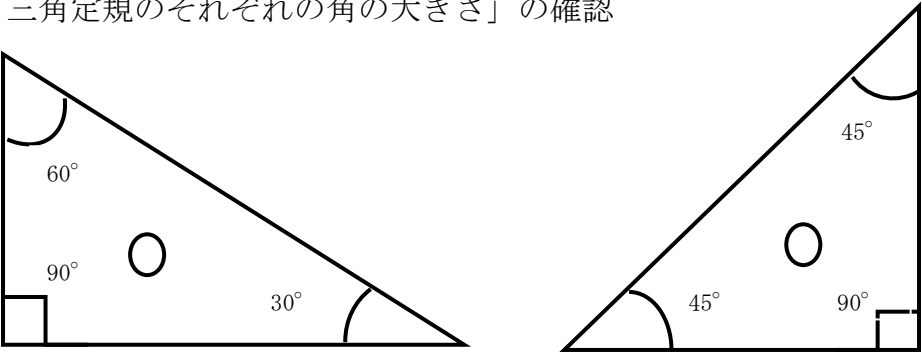
□年 □組 □番 名前 \_\_\_\_\_

教材 3-E-(3)

角の大きさ

『1組の三角定規を組み合わせてつくった角アの大きさ』の解決のために

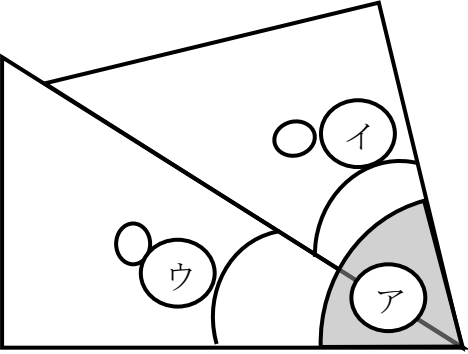
「三角定規のそれぞれの角の大きさ」の確認



①の角度は ( ) 度

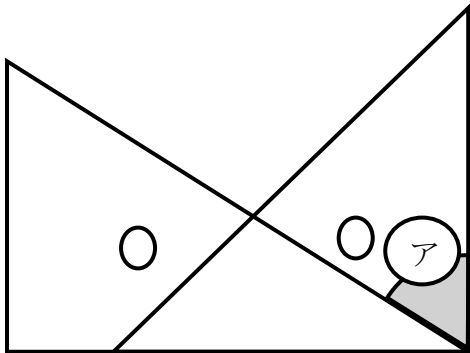
②の角度は ( ) 度

アの角度 = ①の角度 + ②の角度  
= ( ) + ( )  
= ( ) 度



たしかめよう

アの角の大きさは何度でしょう。



式 \_\_\_\_\_

答え \_\_\_\_\_ 度