

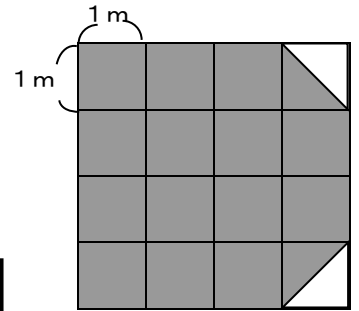
教材3-B-(2) 図形の面積

② 『いちばん広いへやはどれでしょう。下の①～③の中から一つ選び、番号で答えましょう。また、そのへやの面積は何 m^2 でしょう。』の解決のために

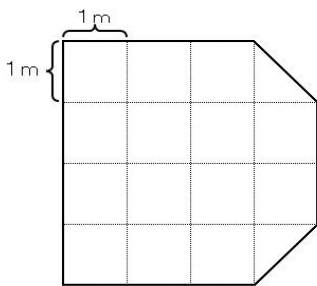
*それぞれのへやに、 $1 m^2$ がいくつあるか考えましょう。

(1) 右の図は①のへやです。

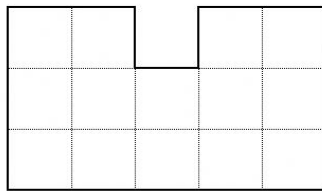
■ は1個で $1 m^2$ です。▲ はどうすれば $1 m^2$ になるでしょう。考え方を書きましょう。



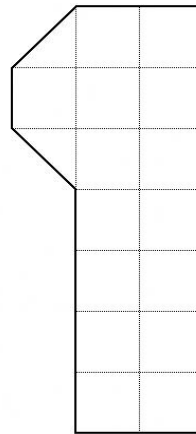
(2) ①～③へやは、それぞれ何 m^2 でしょう。



①



②



③

$1 m^2$ がいくつありますか。

□ m^2

□ m^2

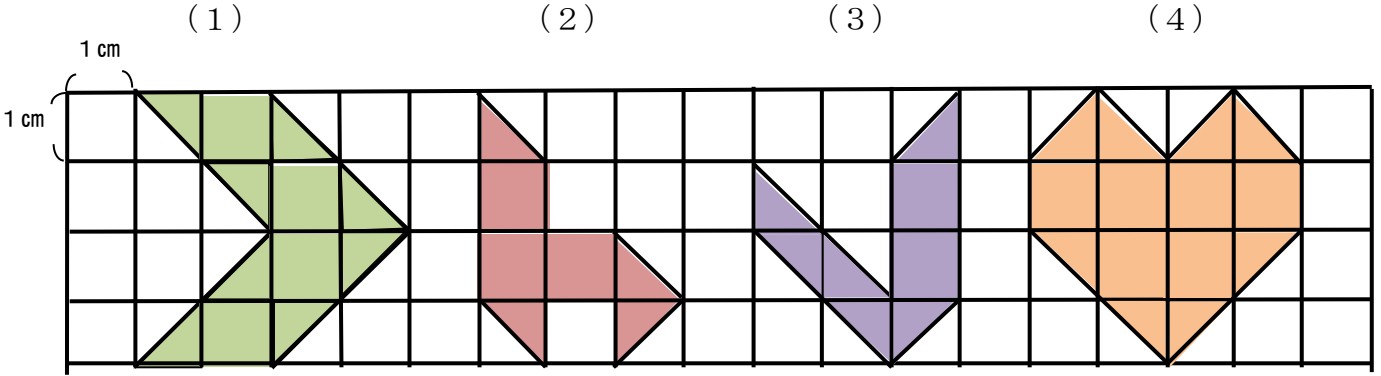
□ m^2

答 □

たしかめよう

* 1 cm^2 が、いくつあるでしょう。

① 次の図の面積は、それぞれ何 cm^2 でしょう。



□

cm^2

□

cm^2

□

cm^2

□

cm^2