

□ 年

□ 組 名前

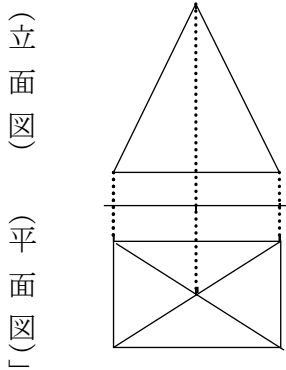
□

教材3-E-(1)の解答

とうえいず
投影図

⑤『投影図』の解決のために

(立面図)

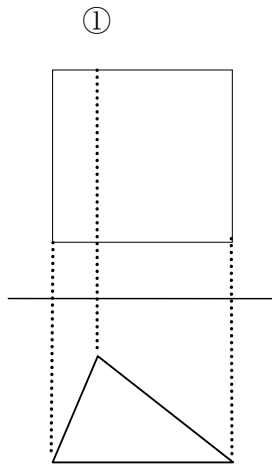


(平面図)

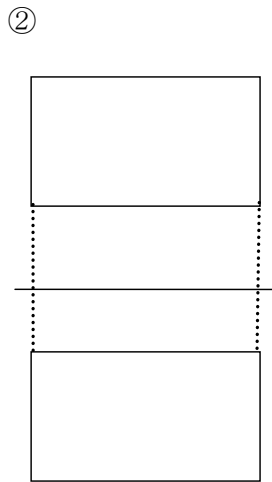
- 立面図は **正面** から見た図で **二等辺三角形**
- 平面図は **真上** から見た図で **長方形**
- この投影図は、直方体、三角すい、三角柱、四角すいのどれでしょうか。
四角すい

たしかめよう

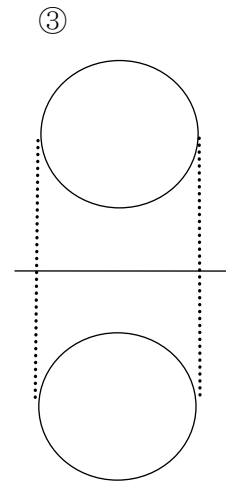
次の投影図で示された立体の名称は、直方体、三角すい、三角柱、円すい、球のうち、どれでしょうか。



三角柱



直方体



球

年

組 名前