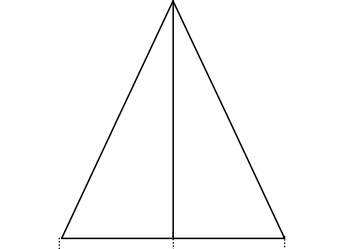


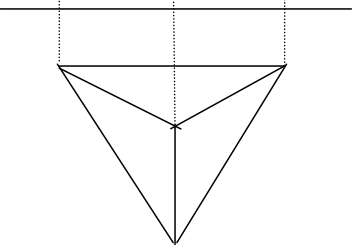
教材3-E-(2) とうえいず **投影図**

⑤ 『投影図』の解決のために

(立面図)



(平面図)



○ 立面図は□ から見た図で □

○ 平面図は□ から見た図で □

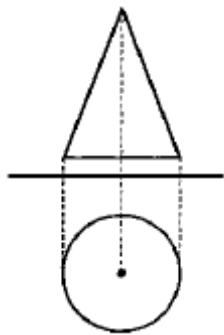
○ この投影図は、直方体、三角すい、三角柱、四角すいのどれでしょうか。

□

たしかめよう

次の投影図で示された立体の名称めいしょうを書きなさい。

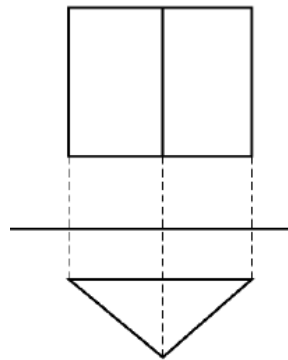
①



名称

□

②



□