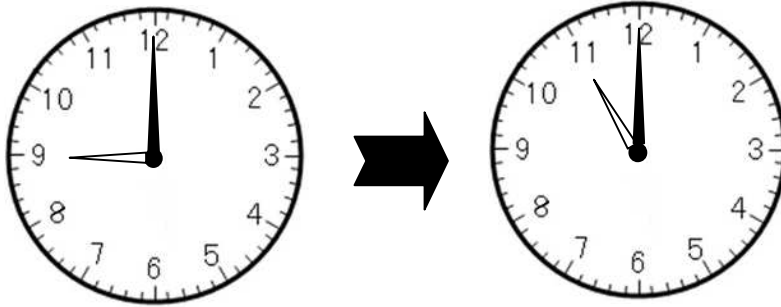


□ 年 □ 組 □ 番 名前 □

きょうざい
教材 7 - (3) 時こく・時間

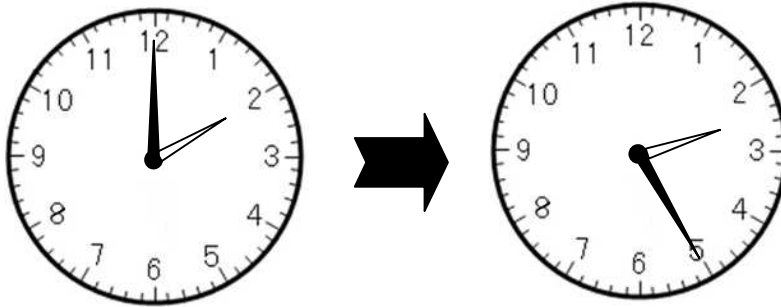
次の時間を書きましょう。

(ア) 午前 9 時から午前 11 時までの時間



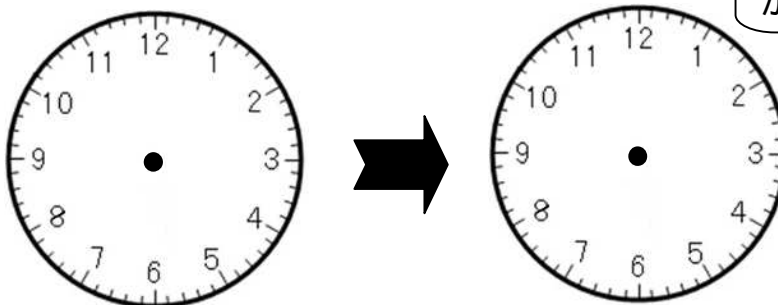
□

(イ) 午後 2 時から午後 2 時 25 分までの時間



□

(ウ) 午前 11 時から午後 2 時までの時間

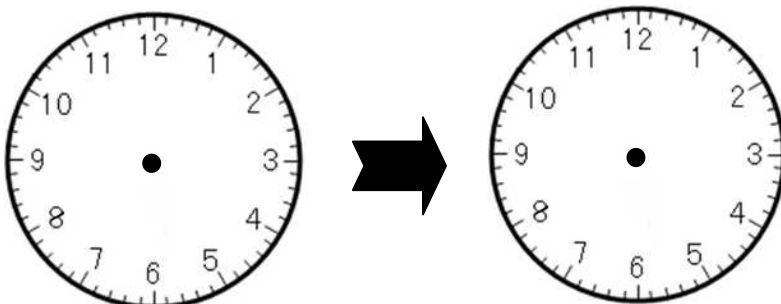


時計のはりを
かいてみよう。



□

(エ) 午前 10 時 50 分から午前 11 時 10 分までの時間



□