

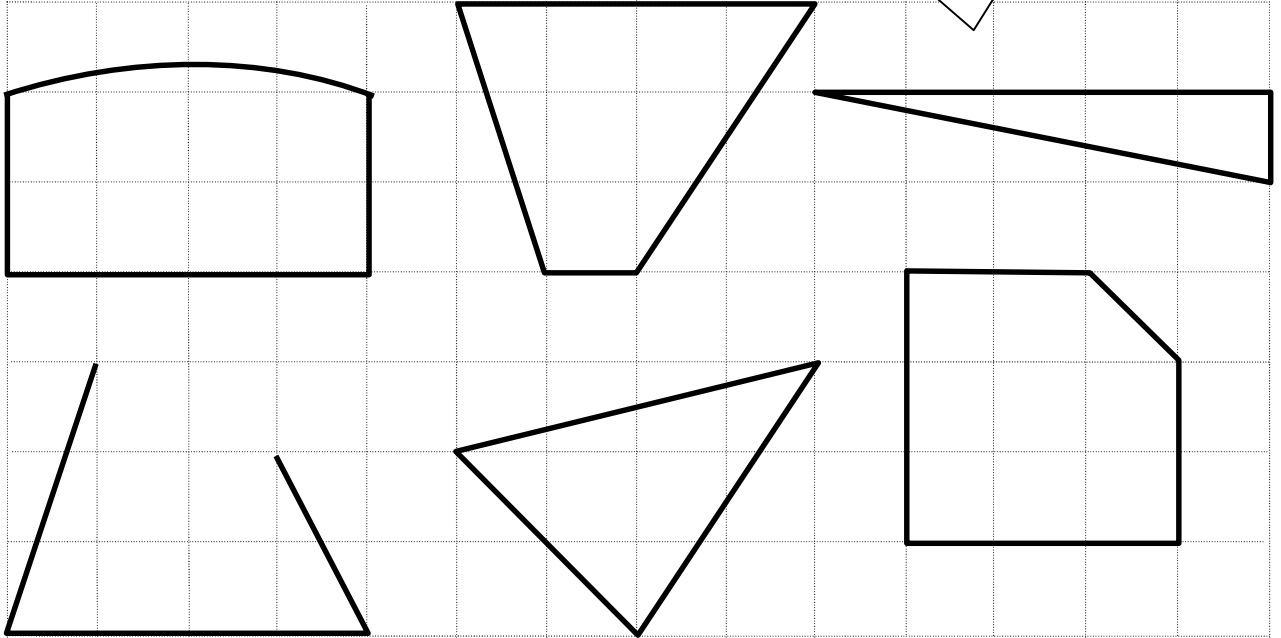
年 組 番 名前

きょうざい 教材 9-(3) の解答 かいとう

三角形と四角形

三角形や四角形のまわりの直線を^{へん}辺、かどの点をちょう点といいます。

(1) 三角形や四角形を見つけましょう。



【答え】

三角形

四角形

ポイント

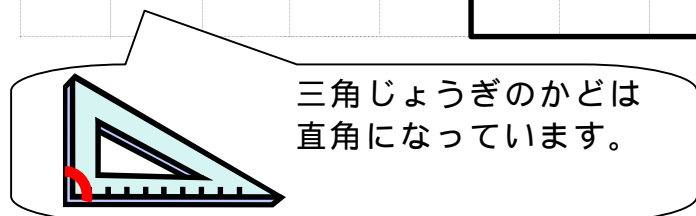
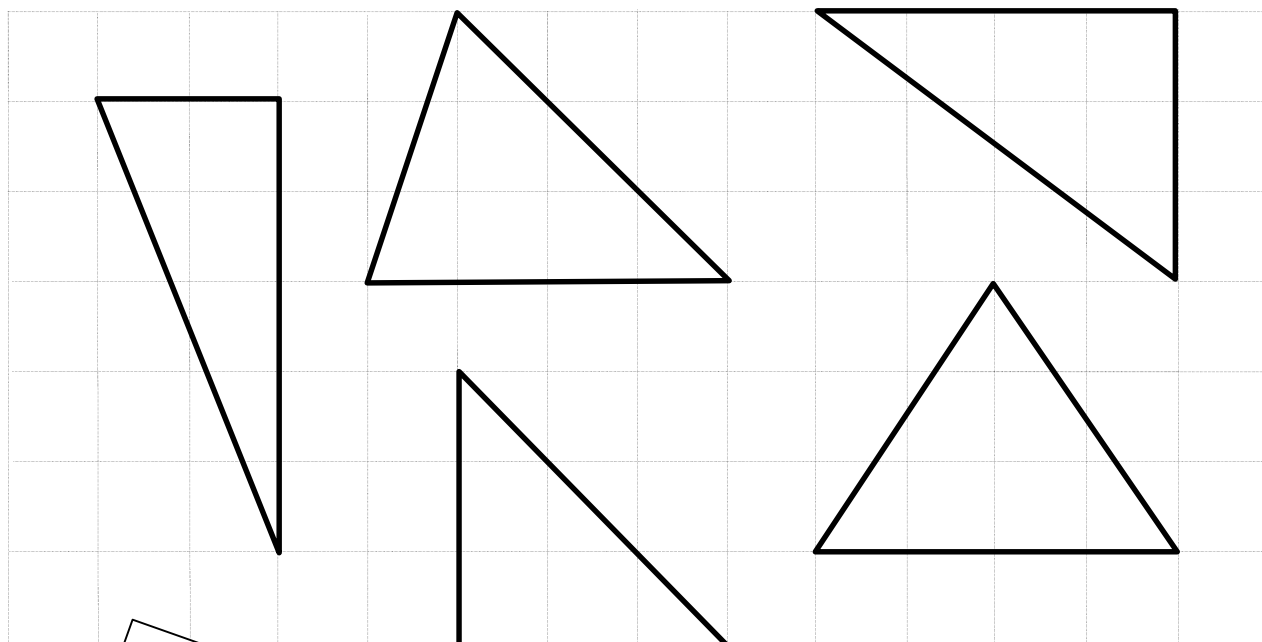
- ・ 3本の直線でかこまれた形を三角形といいます。
- ・ 4本の直線でかこまれた形を四角形といいます。

(2) 直角はどれですか。

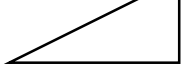


【答え】

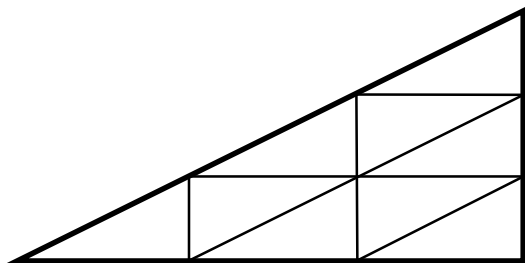
(3) 直角三角形をすべて見つけましょう。



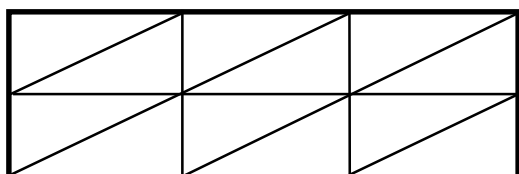
【 答え 】

(4) 図のように，同じ直角三角形  をつなげて形を作りました。

それぞれ，正方形，長方形，直角三角形のどの形になりましたか。名前を書きましょう。



【 答え 】



【 答え 】