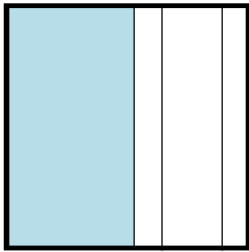


□ 年 □ 組 □ 番 名前 □

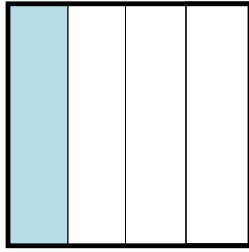
きょうざい 教材 6 - (3) の解答 かいとう 分数

おり紙の $\frac{1}{4}$ の大きさに色がぬってあるのは、次のア～ウのうちどれですか。 【答え】

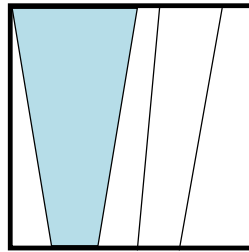
(ア)



(イ)



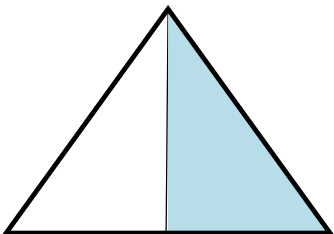
(ウ)



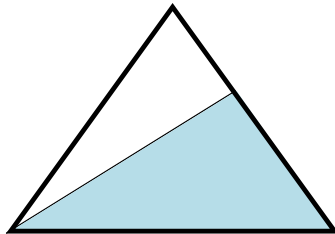
イ

三角形のおり紙の $\frac{1}{2}$ の大きさに色がぬってあるのは、次のア～ウのうちどれですか。 【答え】

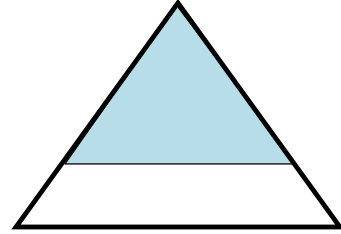
(ア)



(イ)



(ウ)



ア

もとの大きさを、同じ大きさ2つに分けた1つ分の大きさがもとの大きさの $\frac{1}{2}$ です。