

年  組  番 名前


**教材10 - (1)の解答 表とグラフ**

(1) 3年2組で、好きな飲み物調べをしました。そのけっかを【表】にまとめて、を使って【グラフ】に表しました。

**【表】 すきな飲み物調べ**

飲み物	りんごジュース	牛乳	コーヒ-牛乳	のむヨーグルト	おちゃ
人数(人)	9	6	7	5	4

**【グラフ】 すきな飲み物調べ**



- (ア) コーヒ-牛乳が好きな人の数を、上の【表】に書きましょう。
- (イ) のむヨーグルトが好きな人の数を、を使って上の【グラフ】に表しましょう。
- (ウ) 一番多くの人が好きな飲み物はなんですか。

グラフに-----をかいてくらべるとわかりやすいね。


**【答え】** りんごジュース






年  組  番 名前

きょうざい 教材10 - (2) の解答 かいとう ひょう 表とグラフ

(1) 図のようにいろいろな文ぼう具くがあります。

どんな文ぼう具しらがいくつあるかを調べ、そのけっかひょうを【表】に  
 まとめて、つかを使って【グラフ】に表あらわしました。



-  ...えん筆
-  ...消しゴム
-  ...はさみ
-  ...セロハンテープ
-  ...ホチキス

数えたものにするしを  
 つけていこう。  
 しゅるいごとにするし  
 をかえると数え直すと  
 きにべんりだよ。



【表】

文ぼう具調べ

文ぼう具	えん筆 <small>びつ</small>	消しゴム	はさみ	セロハンテープ	ホチキス
数(こ)	<b>6</b>	<b>4</b>	<b>5</b>	<b>2</b>	<b>3</b>

## 【グラフ】

### 文ぼう具調ぐしらべ

えん <small>びつ</small> 筆	け消しゴム	はさみ	セロハンテープ	ホチキス

(ア) えん筆と消しゴムの数を【表】に書ひょうきましょう。

(イ) えん筆とはさみとホチキスの数を、つかを使って【グラフ】に表あらわしましょう。

(ウ) 数が一番多い文ぼう具はなんですか。

【答え】

えん筆

年  組  番 名前

きょうざい 教材10 - (3) の解答 かいとう 表 と ひょう グラフ

クラスみんなの好きなスポーツをカードに書いてもらいました。

すいえい	なわとび	サッカー	リレー	サッカー
サッカー	ドッジボール	なわとび	すいえい	リレー
サッカー	ドッジボール	リレー	ドッジボール	リレー
ドッジボール	サッカー	ドッジボール	リレー	サッカー
リレー	なわとび	サッカー	サッカー	なわとび

(1) このクラスは何人ですか。 【答え】  人

(2) 下の【表】に数を書きましょう。

【表】 すきなスポーツしらべ

	すいえい	なわとび	ドッジボール	サッカー	リレー
人数(人)	2	4	5	8	6

(3) 人数を、つか を使って、下の【グラフ】に あらわ 表 しましょう。

【グラフ】 すきなスポーツしらべ

すいえい	なわとび	ドッジボール	サッカー	リレー

(4) クラスの中で一番多くの人が好きなスポーツはなんですか。

【答え】

サッカー