

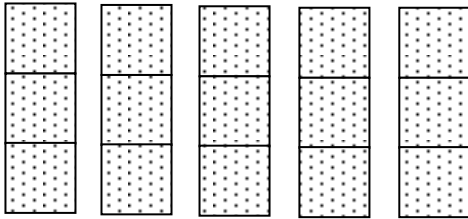
年 組 番 名前

きょうざい
教材 3-(7) の解答

かいとう
計算 (かけ算)

(2) 次の図が表す の数を，かけ算を使ってもとめましょう。

(ア)



かけ算の式
 「1つ分の数×いくつ分=ぜんぶの数」
 で表すと，どんな式になるかな。

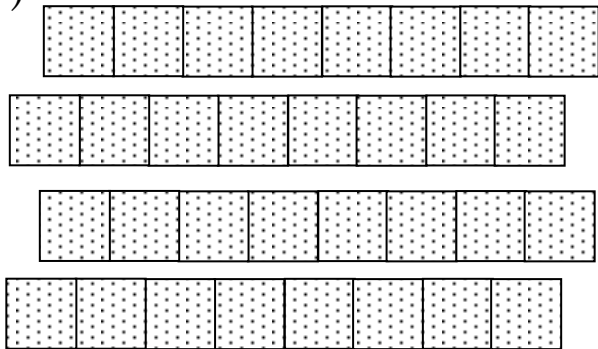
この図の1つ分を と見たら，
 それがいくつ分あると
 いえるかな。



【式】

【答え】

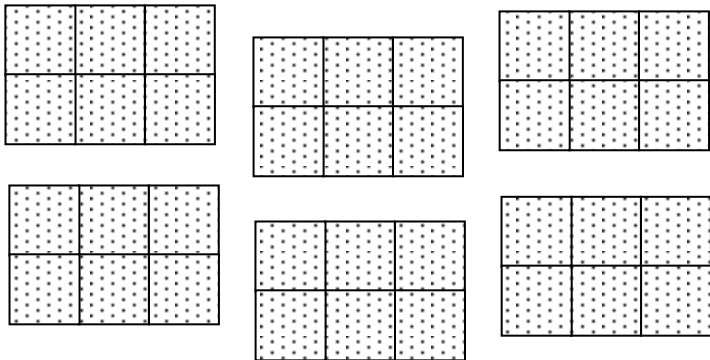
(イ)



【式】

【答え】

(ウ)



【式】

【答え】