

年  組  番 名前

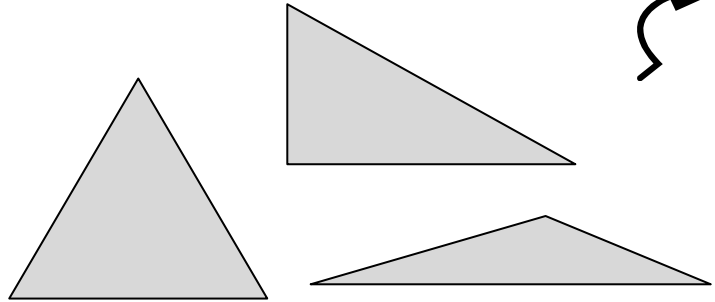
きょうざい 教材 9 - (8) の解答 かいどう

三角形と四角形

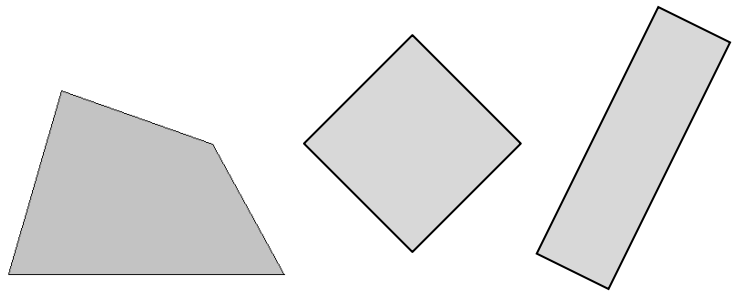
○ 下の  に、あてはまる数を書きましょう。



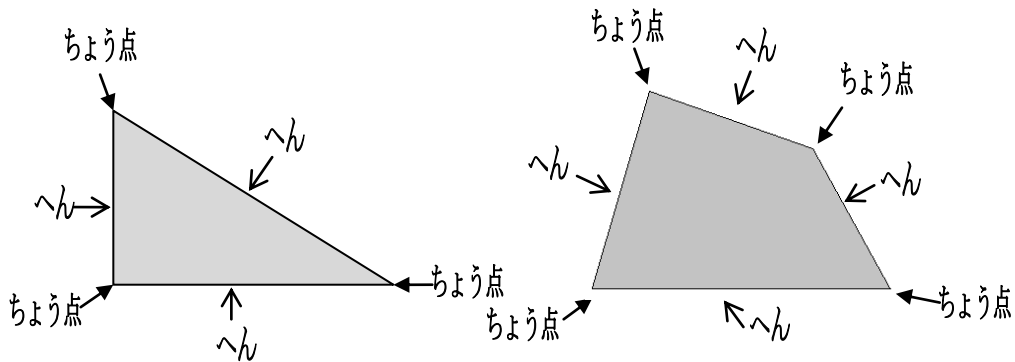
**3** 本の直線で  
 かこまれた形を  
 三角形といいます。



**4** 本の直線で  
 かこまれた形を  
 四角形といいます。



三角形や四角形のかどの点をちょう点といい、まわりの直線をへんといいます。



三角形のへんは  本，ちょう点は  こです。

四角形のへんは  本，ちょう点は  こです。