

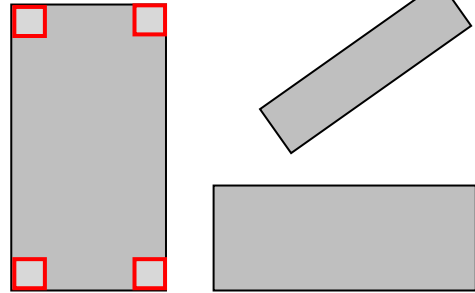
年 組 番 名前

きょうざい 教材 9 - (11) の解答 かいどう 三角形と四角形

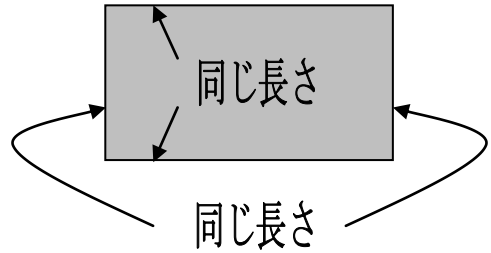
○ 下の に、あてはまる数や言葉を書きましょう。



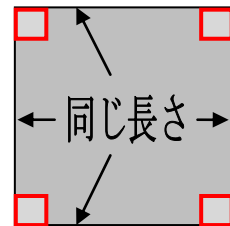
つかのかが、みんな
 になっている四角形を
 長方形といいます。



長方形のむかい合っている
 へんの は同じです。



4つの が、みんな直角で、
 4つの の長さがみんな
 同じになっている四角形を
 正方形といいます。



○ 下の形は長方形です。 にあてはまるへんの長さは何 cm ですか。

